

Всероссийская олимпиада школьников 2023-2024 учебный год

Школьный этап. География, 8 класс, ответы

Время выполнения 60 мин. Максимальное кол-во баллов – 54

ШИФР 8А27

Тестовый тур (27 баллов)

№ задания	Правильный ответ	Кол-во баллов
1	Г	1
2	В	1
3	А	—
4	А2 Б1 В4 Г3	—
5	Б	—
6	В	—
7	А В	—
8	А	+
9	В А	—
10	В А	—
11	Африка, суахи, Косунд, джейран	—
12	В	+
13	Г	+
14	А Г Д	—
15	А2 Б3 В5 Г4 Д1	—
16	А	+
17	Б	+
18	В	—
Максимально количество баллов		40 + 38

Практический тур

Шифр 8A27

Задание №1

За каждую правильно заполненную ячейку 1 балл.

Номер центра происхождения культурных растений с рис.1	Название сельскохозяйственной культуры	Название материка (часть света), родины происхождения данной культуры	Название природной зоны
I	Рис, огурец, цитрусовые	Азия (Евразия) +	Влажные экваториальные и муссонные леса
II	Чай, редька, соя, яблоня	Азия (Евразия) +	Область высотной пояности, жестколистные вечнозеленые леса
III	Ячмень, пшеница, морковь, виноград	Азия (Евразия)	
IV	Капуста, репа, маслины, лук	Европа (Евразия)	
V	Арбуз, банан, пшеница твердых сортов	Африка (Африка) +	
VI	Кукуруза, табак, подсолнечник	С. Америка (С. Америка) +	
VII	Картофель, ананас, арахис	Ю. Америка (Ю. Америка) +	

Максимальное количество баллов - 10

Задание № 2.

Как называется рельеф?

Назовите природный фактор, формирующий данный рельеф.

Назовите процесс, формирующий этот рельеф

О чем может говорить ассиметричность склонов этой формы?

Максимальное количество баллов – 7

Задание № 3.

Вопросы

1. О каких бескрылых птицах идет речь?

Страусы
2. Какие зверята рождаются из яиц?

Волкочел

3. Какие собаки лаять не умеют?

Собака Динго

4. Почему автор считает, что столица не имеет населения?

5. Почему кролики страшней, чем наводнение?

Потому что они уничтожили посева.

Максимальное количество баллов – 10 баллов

Всероссийская олимпиада школьников 2023-2024 учебный год

Время выполнения 60 мин. Максимальное кол-во баллов – 56

Шифр 7502

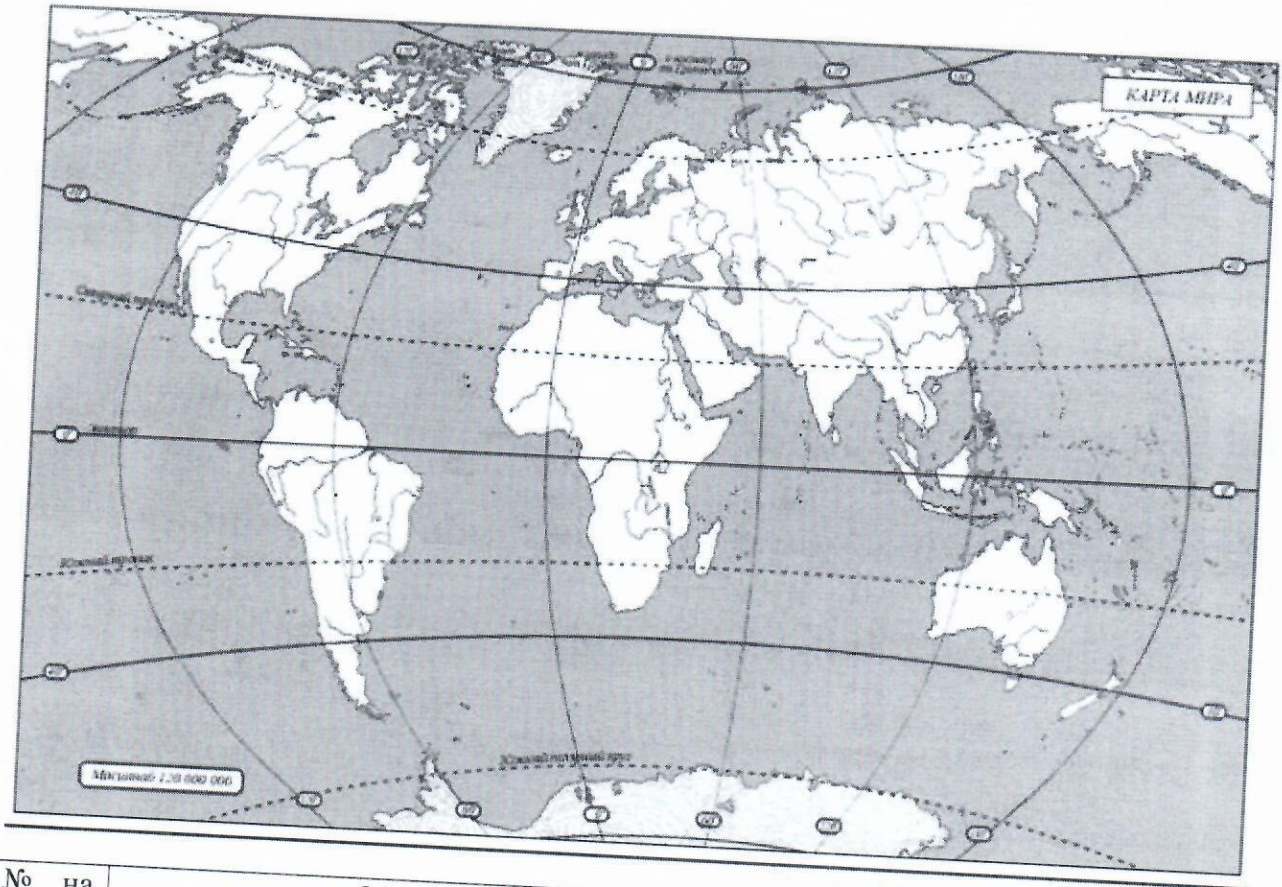
Матрица ответов


№ задания	Правильный ответ	Кол-во баллов
1	Б	+
2	В	+
3	Д, Э, А, Т, В	—
4	А, А, В, Т	—
5	Т, В, А, А	+
6	Т	—
7	Б	+
8	А	+
9	1 А, 2 Д, 3 Т, 4 А, 5 В	—
10	А, Т	—
11	А	—
12	А	—
13	1: 100 000	—
14	В	—
15	Смешан.	—
16	Э	—
17	Б	+
18	Емшей	+
Всего баллов		70 + 65

Шифр 7502

Практический тур

Задание №1



№ на карте	Объект	Название	Количество баллов
1		Гренландия	

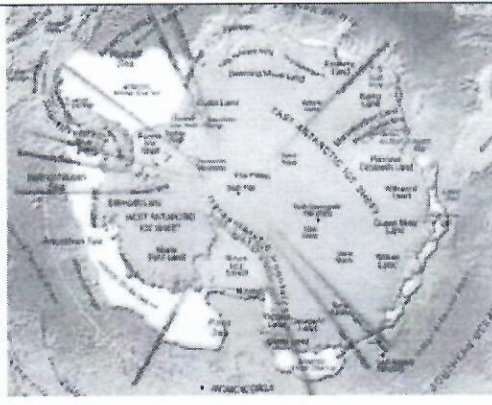
2



Самая высокая гора

Эверест

3



Амазонка

4



Самая длинная река-

Амазонка

5

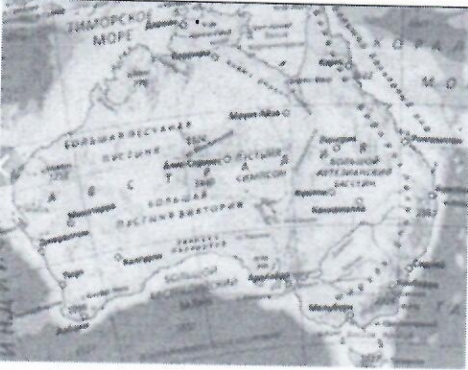


Самая большая
пустыня - *Сахара*

6



Самый высокий
потухший вулкан.

7		Австралия	
Максимальное количество баллов			

Задание № 2. Максимальное количество баллов – 12.

За каждое правильно отмеченное сочетание по 2 балла

№№ п/п	Расположение вулканов относительно границ литосферных плит	Географическое положение вулканов					
		Вулканы Средиземноморья	Вулканы срединной части Атлантического океана	Вулканы Южной Америки	Вулканы Северной Америки	Вулканы западной оконечности Тихого океана	Вулканы островов Гавайского архипелага
1	Вулканы зон расхождения литосферных плит						
2	Вулканы зон схождения литосферных плит						
3	Вулканы внутриокеанических литосферных плит						
4	Вулканы зон скольжения относительно друг друга литосферных плит						

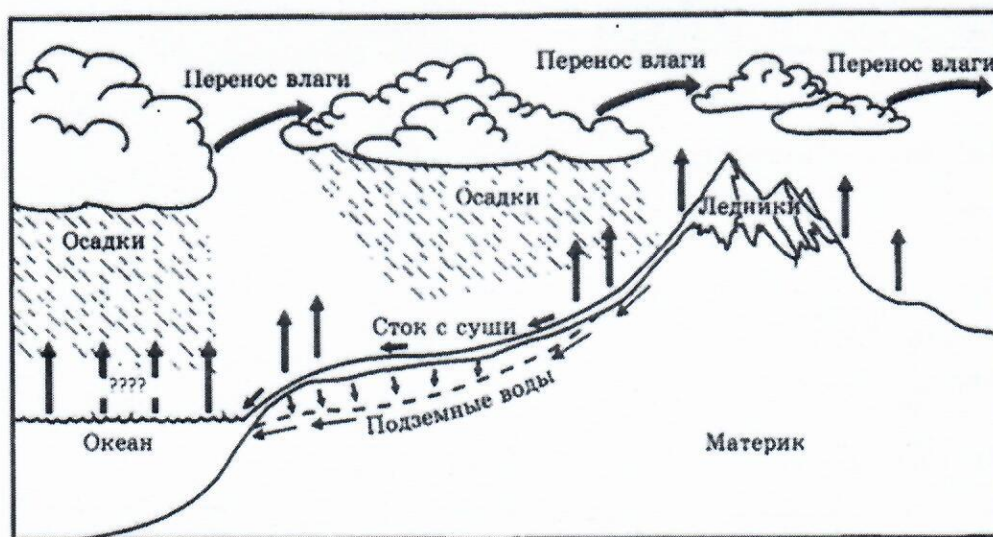
Всероссийская олимпиада школьников 2023-2024 учебный год

Школьный этап. География, 5 класс, задания

Время выполнения 45 мин. Максимальное кол-во баллов – 27

Тестовый тур

- Смена времен года зависит от:
 - А. Вращения Луны вокруг Солнца
 - Б. Вращения Луны вокруг Земли
 - В. Вращения Земли вокруг Солнца
 - Г. Вращения Солнца вокруг Земли
- Выберите из списка город – столицу Красноярского края:
 - А. Краснодар
 - Б. Красноярск
 - В. Казань
 - Г. Москва
- Выберите ответ, в котором перечислены только хвойные деревья:
 - А. Ель, береза, осина
 - Б. Ель, лиственница, осина
 - В. Ель, береза, сосна
 - Г. Ель, лиственница, сосна
- Модель земного шара – это:
 - А. Глобус
 - Б. Карта
 - В. Чертеж
 - Г. План
- Сколько существует материков?
 - А. 5
 - Б. 4
 - В. 7
 - Г. 6
- Какой процесс обозначен знаком «?» на рисунке:



- А. Образование облаков
- Б. Испарение
- В. Выпадение осадков
- Г. Образование снега

7. Сопоставьте прибор и показатель, который он измеряет:

- | | | |
|--------------|---|-------------------------|
| 1. Термометр | → | А. Расстояние на карте |
| 2. Линейка | → | Б. Температура |
| 3. Часы | → | В. Направление ветра |
| 4. Флюгер | → | Г. Время восхода Солнца |

8. Что НЕ является символом государства:

- А. Флаг
- Б. Герб
- В. Гимн
- Г. Граница

9. Сколько стран насчитывается в мире? Запиши ответ в виде числа
278

10. Найди правильную пару между названием формы земной поверхности и картинкой

1. Б) Равнина +
2. А) Горы +

3. Б) Овраг +
4. А) Вулкан +

4



11. Какой объект изображен таким значком на плане местности:



- А. Здание
Б. Родник

- В. Водоем
Г. Церковь

12. Напишите название главной реки Красноярского края:
Енисей

13. Сколько планет входит в состав Солнечной системы:

- А. 6
Б. 7

- В. 8
Г. 10

14. Где расположены города - Тобольск, Новосибирск, Красноярск, Томск?

- А. Дальний Восток
Б. На Волге
 В. Сибирь
Г. На Урале

15. Где расположен объект Всемирного наследия – озеро Байкал?

- А. Красноярский край
Б. Республика Хакасия
В. Республика Тува
Г. Иркутская область

Практический тур

Задание

Максимальное количество баллов за задание – 6 баллов

Внимательно посмотри на карту природных зон.



Используя данную карту, выполни задания:

1. Определи название природных зон А и Б.
2. Из приведенного списка выбери по 2 примера животных, обитающих в этих зонах.

Примеры животных: белый медведь, барсук, жираф, суслик, лось, морж, белка, тюлень, кобра, кенгуру