

Всероссийская олимпиада школьников 2024-2025 учебный год
Школьный этап. География, 7 класс
Время выполнения 60 мин. Максимальное кол-во баллов – 38
БЛАНК ОТВЕТОВ

Тестовый тур

№ задания	Ответ	Кол-во баллов	№ задания	Ответ	Кол-во баллов
1	б	1	10	а	1
2	б		11	б2бс	
3	а2 б5		12	2	
4	а	1	13	1:635000	
5	б		14	б	
6	2 б а б	1	15	б	
7	2		16	а	1
8	1.) а 2.) 2 3.) б 4.) б		17	2	
9	б		18	2	58
Всего баллов					

Практический тур

Задание № 1.








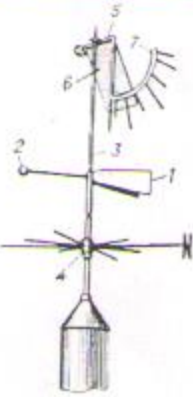


Матрица ответов




1	2	3	4	5	6	7	8	9	10
б	в	а	к	2	е	г	ж	и	з

Задание № 2.

Вставьте недостающую информацию о географических приборах в соответствующую колонку. Максимальное количество баллов, которое можно набрать – 10.

Прибор	Название	Для чего служит?

<p>1.</p> 		<p>Для измерения давления</p>
<p>2.</p> 	<p>Курвиметр</p>	
<p>3.</p> 		<p>Прибор для наглядной демонстрации годового движения Земли вокруг Солнца и суточного вращения Земли вокруг своей оси.</p>
<p>4.</p> 	<p>Гигрометр психрометрический</p>	<p>прибор для измерения уровня воды</p>
<p>5.</p> 	<p>анемометр</p>	<p>Прибор для измерения направления ветра.</p>
<p>6.</p> 	<p>Осадкомер</p>	<p>прибор для измерения кол-ва осадков</p> 

<p>7.</p> 		<p>Прибор для измерения скорости ветра.</p>
<p>8.</p> 	<p>Сейсмограф</p>	
<p>9.</p> 	<p>Компас</p>	<p>Прибор, предназначенный для определения сторон горизонта и состоящий из намагниченной стрелки, всегда показывающей на север.</p>
<p>10.</p> 	<p>Лазерный дальномер</p>	<p>прибор для измерения расстояний</p>